



KPSS

GENEL YETENEK TESTİ

DENEME SINAVI-2

Genel Yetenek-Genel Kültür Testinde toplam 120 soru bulunmaktadır. Süre 120 dakikadır.
GENEL YETENEK TESTİNDE TOPLAM 60 SORU BULUNMAKTADIR. başarılar dileriz...

1. I. Odanın içini kızarmış ekmek kokusu doldurmuştu.
II. Fazla eşyasını acele acele valize dolduruyordu.
III. Yirmi yaşını dolduralı henüz bir sene olmuştu.
IV. Masanın üzerindeki çantasına doldurup arabaya yetişmek üzere çıktı.
"Doldurmak" sözcüğü, yukarıda numaralanmış cümlelerin hangilerinde aynı anlamda kullanılmıştır?
- A) I. ve II. B) I. ve III. C) II. ve III.
D) II. ve IV. E) III. ve IV.
2. Yazık ki gençlik yıllarımda gözden kaçırdığım yazarlardandı Esendal. Neden sonra okuduğumda, benim gibi, yıllarca bu has yazarı göremeyen edebiyat kamuoyunun eksik duyarlılığının yarattığı olumsuzluğu düşündüm. Esendal'ın bütün yaşamı boyunca bunları hiç önemsemediğini de biliyorum üstelik.
- Bu parçadaki numaralanmış sözlerle ilgili aşağıdaki açıklamalardan hangisi yanlıştır?**
- A) I. söz: Farkına varamamak
B) II. söz: Aradan bir hayli zaman geçince
C) III. söz: Yazın çevreleri
D) IV. söz: Hassasiyet
E) V. söz: Hafife almak
3. Sözcüklerin büyüğü ve taşıdığı çağrışımlar konusunda bilimsel pek çok araştırma yapılmaktadır. Bu araştırmalar, ilgi çekici sonuçlarıyla bazı sorunlara **ışık tutması** bakımından son derece yararlıdır. Özellikle, ticari alanda sözcüklerin ifade gücünden ve çağrışımından yararlanılmaktadır. **Bu parçadaki koyu dizilmiş sözle anlatılmak istenen aşağıdakilerden hangisidir?**
- A) Yeni fikirler ortaya atmak
B) Aydınlatıcı düşünceler üretmek
C) Araştırmaya dikkat çekmek
D) Ticari bakış açısıyla yaklaşmak
E) Sorunları nesnel bir gözle irdelemek
4. Mis gibi yosun ve iyot kokusuna burnunu uzatan Dilek Yarımadası'nın kimsesiz patikalarında yürürken denizin mavi gözleriyle bakıştık. Bir koltuğunun altına Karina'yı ötekine Samos'u almıştı. **Bu parçada, numaralanmış sözlerin hangisinde insana özgü nitelikler doğaya aktarılmamıştır?**
- A) I. B) II. C) III. D) IV. E) V.
5. (I) Söz sanatlarının, edebiyat metinlerinin anlaşılmasında ve yorumlanmasında önemli bir yeri vardır. (II) Özellikle Divan şiiri çok karmaşık bir yapıya sahip olduğundan kolay kolay yorumlanamaz. (III) Divan şiirinde, sanatsız bir beyit hemen hemen yok gibidir. (IV) Divan şairleri, sanat yapmaya çok düşkün olduklarından bir beyit içinde birkaç sanatı iç içe kullanmışlardır. (V) Ancak sanat yapma düşkünlüğünden kendini kurtarabilmiş şairler, şiirin özünde yenilikler yaparak bir çiğir açmayı başarmışlardır. **Bu parçada numaralanmış cümlelerin hangilerinde neden belirtilmektedir?**
- A) I. ve II. B) II. ve III. C) II. ve IV.
D) III. ve IV. E) IV. ve V.

6. Aşağıdaki cümlelerin hangisinden ayraç içinde verilen anlam çıkarılmaz?

- A) Ebru, çok eski kitapların cilt kapaklarında yan kâğıt olarak kullanılmışsa da o kitapta kullanılan ebrunun yapılış tarihi hakkında bilgi vermez. (Olasılık)
 B) Ebru denilen renk renk desenli kâğıtlar, eskiden cilt ve defterlerin iç kapaklarını süslemek, hattatların levhalarında fon olarak kullanılmak üzere yapılırdı. (Amaç)
 C) Kâğıt süsleme sanatının en önemlisi olan ebrunun hangi tarihten beri yapıldığını söylemek bugün için imkânsızdır. (Üstünlük)
 D) Ebru üzerine tarih atılarak yazı yazılmışsa ebrunun yapım tarihi kesin olarak söylenebilir. (Koşul)
 E) Ebru, kitre veya benzeri maddelerle yoğunluğu artırılmış su üzerine özel fırçalar yardımıyla boyaların serpilip orada meydana gelen desenlerin kâğıda alınmasıyla elde edilen sanat eseridir. (Tanımlama)

7. (I) Nereye bakarsanız bakın, insanoğlu yeni meydan okumalar için yeni teknolojiler üretmeye devam ediyor. (II) Büyük uzay macerası henüz başladı. (III) Şimdiden devasa toz bulutlarından oluşan spiraller, buz gezegenleri, ateş gezegenleri, yıldızların doğuşu gibi hayal bile edemeyeceğimiz görüntülere eriştik. (IV) Her ne kadar gezegenimiz dışında harikalar yaratmış olsak da kendi küçük gezegenimizin güzelliğini yadsıyamayız. (V) Dünya harikaları da en az diğer gezegenlerdeki muhtemel harikalar kadar değerlidir. **Bu parçadaki numaralanmış cümlelerin hangisinde "karşılaştırma" yapılmıştır?**

- A) I. B) II. C) III. D) IV. E) V.

8. (I) Lidyalılarda gündelik yaşam, evlerin içi ve damlarında sepet ve hasır yapımı, deri işleri, toplanan yabani at ve avlanan hayvanların etlerinin saklanması ve kurutulması şeklindeydi. (II) Ancak bu yaşamın, tekdüze bir yaşam olduğunu ve bu insanların sadece beslenmek için bir arada yaşadıklarını düşünmek pek doğru olmaz. (III) Onları bir arada tutan elbette mitler ve inançlardı. (IV) Öyle ki yerleşmenin güneyinde konumlanan alan içindeki yapılardan biri, diğerlerinden farklı olarak kırmızı doğal boya ile boyanmıştı. (V) Bu özel yapının, burada belirli bir grup tarafından kullanılan, tören ya da ibadet alanı olduğu sanılıyor. **Bu parçada numaralanmış cümlelerin hangisinde "tahmin" anlamı vardır?**

- A) I. B) II. C) III. D) IV. E) V.

9. Aşağıdaki cümlelerin hangisindeki altı çizili söz bir işin zamanını belirtmektedir?

- A) Bayram tatili kısa olduğu için Ankara'da iki gün kalabildik.
 B) Kimi günler, güneş batmadan önce yürüyüşe çıkarız.
 C) Çocukluğumun en güzel yılları İzmir'de geçti.
 D) Sağlıklı yaşamak istiyorsanız düzenli olarak spor yapmalısınız.
 E) Küresel mali kriz gün geçtikçe ağırlığını daha çok hissettiriyor.

10. Geleneği en güçlü türdür şiir. Kitleleri ardından sürükleyen bir işlev de üstlenmiştir çoğu zaman. Yığınları coşturmuş, onlara mesaj iletmiştir. Şiirin mesajı ne olursa olsun, gerçek işlevi, iyi şiir olmasıdır. Bir şiir, yazıldığı dilin iyi bir örneği olma niteliği taşıyorsa mesajı etkinlik gösteremez. **Bu sözleri söyleyen kişinin "iyi bir şiir"de aradığı nitelik aşağıdakilerden hangisidir?**

- A) Oluşturulduğu dilin iklimini ve anlam inceliklerini taşıması
 B) Kitleleri yönlendirecek duygular içermesi
 C) Biçim ve içerik uyumunun dengeli olması
 D) Geçmişin değerlerini canlı tutmaya çalışması
 E) Mesajının toplumsal bir nitelik göstermesi

11. (I) Kitap fuarımızın bu yılki onur konuğu ünlü yazarlarımızdan Füzûzan'dı. (II) "Parasız Yatılı " ile edebiyat yolculuğuna başlayan yazar, 1972'de Sait Faik Ödülü'nü aldı. (III) Çoğunlukla kötü yola düşmüş insanların, çöken ailelerin, yoksullukla ve yalnızlıkla boğuşan kadın ve çocukların dramlarına bir kadın sevecenliğiyle yaklaştı eserlerinde. (IV) Öyküleri, Fransızca, İspanyolca, Farsça, İtalyanca, İngilizce ve Rusçaya çevrildi. (V) "Kırk Yediler " adlı romanı 1975'te Türk Dil Kurumu tarafından ödüle layık görüldüğünde yazar, toplumun aynası olduğunu vurguladığı öyküleriyle gurur duyduğunu söylüyordu.

Bu parçada numaralanmış cümlelerin hangisinde içerikle ilgili bir bilgi verilmiştir?

- A) I. B) II. C) III. D) IV. E) V.

12. Aşağıdaki cümlelerin hangisinde kesme işareti (') yanlış kullanılmıştır?

- A) Siz'de yarınki toplantıya katılırsanız çok iyi olur.
 B) 28 Aralık'ta yirmi yaşına gireceğim.
 C) ATV'de bu akşam çok güzel bir film varmış.
 D) Askerler Gaziantep'in kurtuluşunu canlandırdı.
 E) Doktor Osman Bey'i mi arıyorsunuz?

13. Doğu ve güneydoğudan gelen derelerin iki kıyısında

I
 kümelenmiş olan ağaçlık, bostan ve bahçeler
 Ankara Ovası'nın doğasına hâkim boz rengi yırtan iki
 II
 kalın yeşil çizgi hâlinde göze çarpıyordu. Bent Deresi
 III
 ve Hatip Çayı, Ankara Halkı'nın bağı, bahçesi
 IV V
 olmayan çoğunluğunun yazlık gezinti, piknik ve
 eğlence yerleriydi o zamanlar.

Bu parçadaki numaralanmış sözlerden hangisinin yazımı yanlıştır?

- A) I. B) II. C) III. D) IV. E) V.

14. Bizans I'tan kalan surlarda yürürken ayak bastığınız

yerlere yüzlerce yıl önce de birilerinin ayak bastığını
 II III
 bilmek, o zamanla şimdiki zaman arasında bir bağıdır.
 Bunun gibi bir histir çoğu zaman eski bir kitaba
 IV V
 dokunmak, sayfalarını çevirmek... Bu bakışla bir
 sahaf dükkânı da "zamanlar arasında köprü"dür
 aslında.

Bu parçadaki numaralanmış noktalama işaretlerinden hangisi yanlış kullanılmıştır?

- A) I. B) II. C) III. D) IV. E) V.

15. Aşağıdaki cümlelerin hangisindeki altı çizili sözcüğe "-ler, -lar" eki getirildiğinde cümlede anlatım bozukluğu oluşur?

- A) Çocuk, zekâsını hem anneden hem babadan almış.
 B) Uçak, çağımızın en hızlı ve güvenli ulaşım aracıdır.
 C) Okulun bahçesinde birçok öğrenci top oynuyordu.
 D) Eğitimin vazgeçilmez gereçlerinden biri de kitaptır.
 E) Sınavdaki soru beni çok zorladı.

16. Öğretmen, sınıfındaki öğrencilerin yetenekli ama dikkatli olduğunu söylüyordu.

Bu cümledeki anlatım bozukluğu aşağıdaki değişikliklerden hangisiyle giderilebilir?

- A) "öğrencilerin" sözcüğünden sonra "bazıları" sözcüğü getirilerek
 B) "sınıfındaki" sözcüğü atılarak
 C) "öğretmen" yerine "eğitmen" sözcüğü getirilerek
 D) "ama" yerine "ve" sözcüğü getirilerek
 E) "yetenekli" sözcüğünden sonra "olduğu" sözcüğü getirilerek

17. Bir cümleden farklı iki anlam çıkarılabiliyorsa o cümlede, anlam bulanıklığından kaynaklanan anlatım bozukluğu vardır.

Aşağıdaki cümlelerin hangisi bu bilgiye örnek olabilir?

- A) İlçede dün gece çıkan olaylar, sandığımız kadar büyük değilmiş.
 B) IMF ile Türkiye'nin menfaatine uygun bir proje üzerinde çalışılmıyormuş.
 C) Bu konudaki bilgiyi danışmadan alabilirsiniz.
 D) Dış ticaret açığı her yıl artıyormuş.
 E) Kimin suçlu kimin suçsuz olduğu gün gibi ortada.

18. Aşağıdaki cümlelerin hangisinde bir anlatım bozukluğu vardır?

- A) Çocuğun eğitiminde rol oynayan en önemli kurumun aile olduğu unutulmamalıdır.
- B) Bütün anne babalar gibi ben de kızıma büyüyünce ne olmak istediğini sordum.
- C) Aileler, çocukları söz konusu olduğunda hiçbir özveriden kaçmaz.
- D) Ancak günümüzdeki çocukların bazı davranışları göz kapatılacak gibi değil.
- E) Çocuk, bazen yoğun ilgi ve sevgiyi olumsuz bir takım davranışlarına da alet edebiliyor.

19. Adalarda farklı ekolojik bir dağılım gösteren Galapagos ispinozları farklı boyut, şekil, gaga, tüy, ötüş, beslenme ve alışkanlıklarına sahip 13 türe ayrılmıştır. Adalara uyum sağlamış olduklarının en iyi kanıtı, farklı türlerin sahip olduğu farklı gaga şekilleridir. Bazıları tohum toplamaya yönelik gaga biçimine sahiptir. Bazıları ise kaktüslerden beslenir ve uzun, benekli bir gagaya sahiptir. Bazılarınınki de küçüktür; bunlar öncelikli olarak böceklerle beslenen türlerdir. Ağaçkakan ispinozları ise kendine özgü bir gaga geliştirerek ağaçlardaki çatlaklardan ve yarıklardan larva çıkartabilmek için kaktüs dikenlerini kullanabilmektedir.

Bu parçanın anlatımında düşünceyi geliştirme yollarından özellikle hangisi kullanılmıştır?

- A) Açıklama
- B) Benzetme
- C) Karşılaştırma
- D) Alıntı yapma
- E) Kanıtlama

20. Şehri terk etmek... Ama Bodrum'da şık bir villaya yerleşmek üzere değil. Doğadan bu denli uzak kaldıktan, onca yıl şehir yaşamının sıkıntısını çektikten sonra betonsuz, doğanın içinde mütevazı bir ev olmalı. Bunca yıl; bilinçsizce tüketim ve daha konforlu yaşama arzusu nedeniyle yeryüzünü kirlettik. Şimdi doğayla barışmanın, suçumuzun bir kısmını affettirmenin tam zamanı. Küçük bir koya yakın, belki bir sedir ormanı kıyısında yaşamak fena olmazdı. Hatta kendi enerjisini üreten ekolojik bir sistem olmalı. Ve sağlıklı beslenmek için organik ürünler yetiştirmeli. ...

Bu parçanın sonuna düşüncenin akışına göre aşağıdakilerden hangisinin getirilmesi uygun olur?

- A) Ahşap, topraktan ne kadar uzaksa ev o kadar uzun ömürlü olur.
- B) Doğayla iç içe yaşamak, geceleri yıldızları saymak pek çok kentlinin hayalidir.
- C) Evimizi gereksiz eşyalarla doldurup yaşam alanımızı kirletmemeliyiz.
- D) Bu yeni yaşam hayali, ahşap bir kulübeye sığdırılırsa huzur tamamdır.
- E) Günümüzde birçok insan, şehir hayatından sıkılıp kendini doğaya atıyor.

21. (I) Ankara, MÖ 2000'lere kadar giden tarihinde Türkiye dışında bir devlete daha başkentlik yapmış: Galatlar. (II) Tarih boyunca Hititler, Frigyalılar, Lidyalılar, Persler, Roma İmparatorluğu ve Karamanoğulları'nın yolu da Ankara'dan geçmiştir. (III) 1071'de Alpaslan'ın, Malazgirt Savaşı'yla Anadolu'yu Türklere açmasından kısa süre sonra Ankara da fethedilmiş. (IV) 1402'de Moğolların ve 1414'te Osmanlı İmparatorluğu'nun hâkimiyetine geçmiştir. (V) MÖ 12. yüzyılda adı "Ankuwash" olan kent, daha sonra "Ancyra" ve "Ankyra" gibi adlarla anılmış. (VI) Günümüze de "Ankara" şekliyle gelmiş.

Bu parça iki paragrafa bölünmek istense ikinci paragraf numaralanmış cümlelerin hangisiyle başlar?

- A) II. B) III. C) IV. D) V. E) VI.

22. Bir sahaf dükkânı size neyi çağırıştırır? Köhneliği, kapanmış bir devri, rutubet kokan kâğıtları, açılması gereken sayfaları mı? Eğer böyleyse sizin için tavan arasından öte bir şey değildir sahaf dükkânı. Oysa... Sayfalarını sarartır, cildini yıpratır, parçalara ayırır belki; ama zaman bunlar dışında hiçbir şeyi eskitemez. Düşünün şimdi: Orhan Kemal'in "72. Koğuş" romanında, bunlardan başka ne eskitebilir zaman?

Bu parçada boş bırakılan yere düşüncenin akışına göre aşağıdakilerden hangisinin getirilmesi en uygundur?

- A) sahaflar yalnızca kitap tutkunları için değildir.
- B) hangi kitabı eskitmeye gücü yetebilir zamanın?
- C) o sahaflarda, hatırlanmayı bekleyen pek çok eser vardır.
- D) zamanın her şeyi yıprattığı yadsınamaz bir gerçektir.
- E) eskiden elle yazıldığı için daha dayanıksız oluyordu kitaplar.

23. (I) Satranç, yüzyıllardır var olmasına rağmen eğitimde değerli bir araç olarak yeni yeni kabul görüyor. (II) Asırlardan beri oynanan satrancın, 4000 yıl önce Mısır'da oynandığına dair bulgulara piramitlerde rastlanmaktadır. (III) Yine bazı bulgulara göre bugünküne benzeyen adını MS 3. yüzyılda Hindistan'da "Çaturangu" olarak aldı. (IV) Hindistan'da hayat bulan satranç, tüccarlar aracılığıyla İran'a, oradan Araplara, Arap akıncıları yoluyla da Kuzey Afrika'dan İspanya'ya geçmiştir. (V) Ortaçağ'da Avrupa şövalyelerinin gözdesi olan satranç zamanla tüm dünyada oynanan gözde bir oyun durumuna gelmiştir.

Bu parçadaki numaralanmış cümlelerden hangisi parçanın anlam akışını bozmaktadır?

- A) I. B) II. C) III. D) IV. E) V.

24. Her şeyden önce insanımıza Türkçe sevgisini aşılmalıyız. Sonra belirli yöntemlerle bazı meslek sahiplerini eğitmeliyiz. Örneğin; düğün davetiyesi veya kartvizit basanları, tabelacıları, bilgisayarla çalışanları... Yabancı sözcüklere özenmenin pek sağlıklı bir düşüncenin sonucu olmadığını açıkça anlatmalıyız. Türkçenin de çok zengin bir dil, zengin bir sözcük dünyasının olduğunu belirtmeliyiz. Moda diye yabancı sözcük kullanmaya ayak uyduran insanların uyarmanın da yararlı olacağına inanıyorum.

Bu parça bütünüyle ele alındığında aşağıdaki sorulardan hangisine yanıt olabilir?

- A) Türkçeyi topluma nasıl sevdirebiliriz?
- B) Türkçenin sözcük dağarcığının zenginliği konusunda neler söyleyebilirsiniz?
- C) Toplumumuzun yabancı sözcük kullanma sorunu sizce nasıl çözülebilir?
- D) Edebiyatımızdaki moda akımlara uymak sizce doğru mu?
- E) Yazım ve söyleyiş konusundaki hatalar nasıl giderilebilir?

25. Sanat yapıtları -hele şiir- söz konusu oldu mu çok duyulan bir söz vardır: "Alın şu şiiri, hikâyeyi; okuyun sokaktaki adama, anlayacak mı bakalım?" Ölçü budur! Sokaktaki adam, işçi-köylü anladı mı o şiiri ya da hikâyeyi, sorun çözülmüş demektir; o şiir ya da hikâye iyidir. Değilse bir şeye yaramaz. Evet, ölçü budur; ama yalnızca sanat yapıtlarında. Bunun söyleyenlerin aklına "Alın, Politzer'in 'Felsefenin Temel İlkeleri'ni, sokaktaki adama okuyun, anlayacak mı bakalım?" demek gelmez.

Bu parçadan aşağıdaki sonuçların hangisine ulaşılabılır?

- A) Yazınsal yapıtlarla felsefi yapıtların ortak paydası, güç anlaşılır olmalarıdır.
- B) Sanat yapıtlarının değerlendirilmesinde tek ölçüt halkın beğenisi olamaz.
- C) Bir yapıtı, içeriğinin anlaşılabilirliği değil estetik yönünün güçlülüğü kalıcı kılar.
- D) Yazınsal yapıtlar içinde, şiirin kendine özgü bir konumu vardır.
- E) Bir yapıtın niteliği, halkın beğeni çizgisinin çok üstünde olmasıyla ölçülür.

26. İnsan yaşlı olmaya karar verdiği gün yaşlanır. Güzelliği görme yeteneğini kaybetmeyen asla yaşlanmaz. Yaşlanmak bir dağa tırmanmak gibidir. Çıktıkça yorgunluğunuz artar, soluğunuz daralır; ama görüş alanınız genişler.
Bu parçadan aşağıdaki yargılardan hangisine ulaşılabilir?

- A) Yaşlanmanın kişinin kendi elinde olduğuna
- B) Yaşlanmanın insanı hayattan kopardığına
- C) Güzelliklerin peşinde koşanların yalnızca gençler olduğuna
- D) Kimsenin, kolay kolay yaşlanmak istemeyeceğine
- E) Yaşlı birinin, gençler kadar cesaretli olmadığına

27. İngiliz denizcilik şirketine ait, uzunluğu 271 m, deplasmanı 60.000 ton olan Titanic, ilk seferi sırasında Southampton'dan New York'a doğru yol alırken 14-15 Nisan 1912 gecesi Newfoundland'ın 10 km açığında bir buzdağına çarparak batan yolcu gemisidir. Kaza sonucu 1515 yolcu yaşamını yitirmiştir. Dönemin en büyük ve en lüks yolcu gemisi olan "Titanic" in gövdesi su geçirmez 16 bölmeye ayrılmıştı ve çift tabanlıydı. Bu bölümlerden dördünün suyla dolması bile geminin su üstünde kalmasını tehlikeye sokmadığından "Titanic" in batmasının olanaksız olduğu kabul ediliyordu; ama 14 Nisan; gece yarısından kısa bir süre önce 22 deniz mili hızla seyretmekte olan gemi, sağ yanından bir buzdağına çarptı. Çarpma sonucunda su geçirmez beş bölme hasar görünce gemi 15 Nisan sabahı 2.20'de battı.

Bu parçada Titanic ile ilgili olarak aşağıdakilerin hangisine değinilmemiştir?

- A) Ne zaman ve nerede battığına
- B) Döneminin en gösterişli gemisi olduğuna
- C) Okyanusta batan ilk transatlantik olduğuna
- D) Fiziksel bazı özelliklerine
- E) Batmasının olanaksız olduğunun sanıldığına

28. Okuma-yazma oranının artması ve öğretim kurumlarının çoğalması kitabın yaygınlaşmasını sağladı. Kitabın 20. yüzyıl başlarında tek dolaylı rakibi basındı; buna daha sonra sırasıyla radyo, sinema, fonogram, televizyon, video ve internet eklendi: Cep kitaplarının yaygınlaşmasına ve dağıtım kolaylıklarına rağmen kitap ne yazık ki kitlesele kültür iletişimde tek araç olmaktan çıktı; oysa tüm tarihi boyunca gerçek bir uygarlık yaratacak kadar kültür alanına egemen olmuştu.

Bu parçada aşağıdakilerin hangisinden yakınılmaktadır?

- A) Okumamak için türlü bahaneler uydurulmasından
- B) Kitle iletişim araçlarının artmasıyla kitaba olan ilginin azalmasından
- C) Cep kitaplarının yeterince tanıtılmamasından
- D) Okuma-yazma oranının artması için yeterince çalışma yapılmamasından
- E) Kitap konusunda okurların seçici davranmasından

29. Ece Ayhan, İkinci Yeni içinde yer alırken ardında kalan yükün bütün ayıklamalarını yaptı, yaşayanla ölenin ayrımını saptadı. Ölenin yaşayan bir yanını usta bir duyarlıkla diriltebileceğini kanıtladı. Kendinde başlayıp kendinde biten ustalıklar onun şiirinin sonraki kuşaklar üzerindeki etkisini yalıtı. Slogan niteliğinde olan şiirleri, toplumcu yönünü doğallaştırdı. Sözlükteki kelimelerin yıpranmışlığını görünce onları basmakalıp anlamlarından uzaklaştırdı, kendi şiirinin sözlüğünü kurdu.

Bu parçada sözü edilen sanatçı ya da yapıtlarıyla ilgili olarak aşağıdakilerin hangisine değinilmemiştir?

- A) Sadece şiir türünde eser verdiği
- B) Şiirleriyle topluma mesajlar verdiği
- C) Yapıtlarını özgün bir anlatımla oluşturduğuna
- D) Sözcüklere alışılmışın dışında anlamlar yüklediğine
- E) Toplumcu bir yönünün olduğuna

30. Gerçek kahramanların yazarı Peride Celal, trajedileriyle Türk edebiyatının eşsiz bir portreler galerisini sunuyor. Hikâyelerinin anlatımındaki yalınlık, kurgusundaki sağlamlık, söz sanatlarına iltifat etmeden doğrudan anlatım, klasik bir edebiyat anlayışı, onun sevdiğim yanlarından bazıları. Anlattığı konuya uygun bir biçem ve biçim, inandırıcılık konusunda çok önemli bir unsur görevini üstleniyor.

Bu parçada sözü edilen sanatçı ya da yapıtlarıyla ilgili olarak aşağıdakilerin hangisine değinilmemiştir?

- A) Anlatımında dolambaçlı yollara sapmayarak süsten uzak durduğu
 B) Yapıtlarındaki kahramanları yaşamın içinden seçtiği
 C) Söyleyişinin, içeriğin özelliğine yaraşır olmasına özen gösterdiği
 D) Sanatlı söyleyişlerden kaçınırken zaman zaman sıradanlığa düştüğü
 E) Biçim ve içerik uyumunun yapıtlarının inandırıcı olma niteliğini artırdığı

31. a ve b tamsayılar olmak üzere,
 $a^2 + b^2 = 58$
 olduğuna göre, a – b farkının alabileceği en büyük değer kaçtır?

- A) 4 B) 7 C) 10 D) 11 E) 13

32. $K = 30 \cdot 4!$ olmak üzere,
 $7! + 6!$ ifadesinin K cinsinden değeri aşağıdakilerden hangisidir?

- A) 12K B) 8K C) 6K D) 4K E) K+8

33. Rakamları birbirinden farklı üç basamaklı en küçük tek sayı ile rakamları birbirinden farklı iki basamaklı en büyük tek sayının toplamı kaçtır?

- A) 200 B) 197 C) –247 D) –888 E) –890

34. ab iki basamaklı bir doğal sayıdır.

$$\begin{array}{r} ab \overline{) 6} \\ \underline{ 8} \\ 5 \end{array}$$

olduğuna göre, ab sayısının 5 ile bölümünden kalan kaçtır?

- A) 0 B) 1 C) 2 D) 3 E) 4

35. 12, 15 ve 18 sayıları ile bölüldüğünde her seferinde 4 kalanını veren üç basamaklı en küçük doğal sayı kaçtır?

- A) 364 B) 290 C) 204 D) 184 E) 180

36. x bir doğal sayı olmak üzere,

$$\left(1 + \frac{1}{2}\right) \cdot \left(1 - \frac{1}{6}\right) + \left(1 + \frac{1}{4}\right) = \left(\frac{x+3}{x}\right)$$

olduğuna göre, x kaçtır?

- A) 1 B) 2 C) 3 D) 4 E) 5

37.
$$\frac{(x+y)^2 - (x-y)^2}{(2x)^2}$$

ifadesinin sadeleşmiş biçimi aşağıdakilerden hangisidir?

- A) –2xy B) 4xy C) $\frac{x}{y}$
 D) $\frac{y}{x}$ E) y

38. $3(x-2) - 2(x+1) = 2(2-x)$ eşitliğini sağlayan x değeri kaçtır?

- A) –1 B) 2 C) 4 D) 7 E) 10

39. x, y, z sıfırdan farklı doğal sayılar ve

$$x = \frac{y}{5} = \frac{z}{0,5}$$

olduğuna göre, aşağıdakilerden hangisi doğrudur?

- A) $x < y < z$
B) $y < x < z$
C) $y < z < x$
D) $z < x < y$
E) $z < y < x$

40. $x - 16 < 5x < x + 20$
olduğuna göre, x 'in en geniş tanım aralığı aşağıdakilerden hangisidir?

- A) $-6 < x < 2$
B) $-4 < x < 0$
C) $-2 < x < 1$
D) $-4 < x < 5$
E) $2 < x < 6$

41. $1 < x < 2$ olmak üzere,

$$|3 - |1 - x||$$

ifadesinin eşiti aşağıdakilerden hangisidir?

- A) $x - 4$ B) x C) $x + 1$
D) $-x$ E) $4 - x$

42. $8^{2x+1} = 32^{x+7}$

olduğuna göre, x kaçtır?

- A) 33 B) 32 C) 30 D) 24 E) 20

43. $\frac{2a + 3b}{a} = 5$

olduğuna göre, $\frac{3a + b}{b}$ ifadesinin değeri kaçtır?

- A) 1 B) 2 C) 3 D) 4 E) 5

44. Toplamları 78 olan iki sayıdan biri diğerinin 2 katından 3 fazladır.

Buna göre, büyük olan sayı kaçtır?

- A) 25 B) 35 C) 46 D) 49 E) 53

45. Değeri $\frac{3}{4}$ olan bir kesrin payına 2 eklenir, paydasından 1 çıkarılırsa kesrin değeri $\frac{4}{5}$ olmaktadır.

Buna göre, başlangıçtaki kesrin payı paydasından kaç eksiktir?

- A) 14 B) 12 C) 10 D) 8 E) 6

46. Furkan'ın 5 yıl önceki yaşının 4 yıl sonraki yaşına oranı $\frac{1}{4}$ tür.

Buna göre, Furkan bugün kaç yaşındadır?

- A) 6 B) 7 C) 8 D) 9 E) 10

47. Bir usta 3 günde 5 çift ayakkabı, çirağı ise 4 günde 3 çift ayakkabı yapabilmektedir.

Buna göre, usta ile çirak birlikte 116 çift ayakkabıyı kaç günde yaparlar?

- A) 21 B) 24 C) 29 D) 36 E) 48

48. $\sqrt[3]{x-4} + \sqrt{4-x} + \sqrt{x+4}$

toplamı bir gerçel sayı belirttiğine göre, x'in en geniş tanım aralığı aşağıdakilerden hangisidir?

- A) $x \leq 4$ B) $-1 \leq x \leq 2$ C) $-4 \leq x \leq 4$
D) $x \geq -4$ E) $-12 \leq x \leq 4$

49. A sayısı B sayısının % 20'si, C sayısının ise % 50'sidir.


Buna göre, C sayısı B sayısının yüzde kaçtır?

- A) 35 B) 40 C) 45 D) 48 E) 55

50. 150 gr un, 130 gr su ve 120 gr şeker karıştırılarak elde edilen homojen karışımın 100 gramında kaç gram şeker bulunur?

- A) 30 B) 32 C) 36 D) 48 E) 54

51. \rightarrow 60 km/sa
 \rightarrow 40 km/sa



Şekildeki gibi saatteki hızları 60 km ve 40 km olan iki araç A şehrinden aynı anda aynı yöne doğru harekete başlıyorlar. Hızlı olan araç C şehrine gidip hiç durmadan geri döndüğünde yavaş olan araçla B şehrinde karşılaşıyor.

Buna göre, $\frac{|AB|}{|BC|}$ oranı kaçtır?

- A) $\frac{1}{4}$ B) $\frac{1}{3}$ C) $\frac{4}{3}$ D) 4 E) 6

52. Gerçel sayılarda tanımlı Δ işlemi,
 $x \Delta y = 5x - y - 1$
biçiminde tanımlanıyor.

Buna göre, $(1 \Delta 2) \Delta 3$ işleminin sonucu kaçtır?

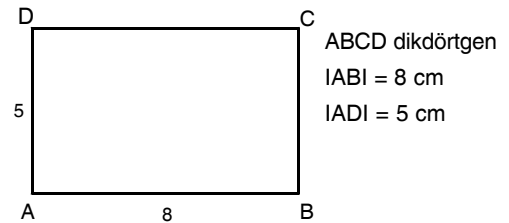
- A) -3 B) 2 C) 6 D) 7 E) 8

53. $A = \{1, 2, 3, 4, 5, 6\}$

kümesinin elamanları ile rakamları birbirinden farklı üç basamaklı 400'den büyük kaç farklı sayı yazılabilir?

- A) 30 B) 45 C) 60 D) 90 E) 120

- 54.

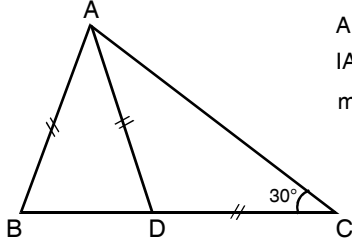


Şekildeki ABCD dikdörtgeni [AD] etrafında 360° döndürülüyor.

Buna göre, elde edilen cismin hacmi kaç π cm³ tür?

- A) 360 B) 320 C) 240 D) 180 E) 120

55.

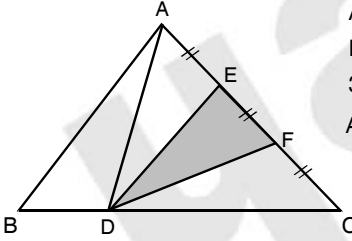


ABC bir üçgen
 $IAB I = IADI = IDCI$
 $m(\widehat{ACD}) = 30^\circ$

Yukarıdaki verilere göre, $m(\widehat{BAC})$ kaç derecedir?

- A) 68 B) 75 C) 80 D) 90 E) 110

56.

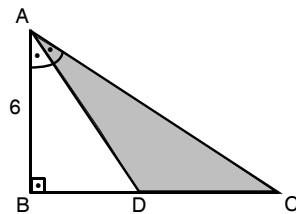


ABC bir üçgen
 $IAEI = IEFI = IFCI$
 $3IBDI = IDCI$
 $A(\triangle ABC) = 92 \text{ cm}^2$

Yukarıdaki verilere göre, $A(\triangle DEF)$ kaç cm^2 dir?

- A) 23 B) 25 C) 28 D) 32 E) 36

57.

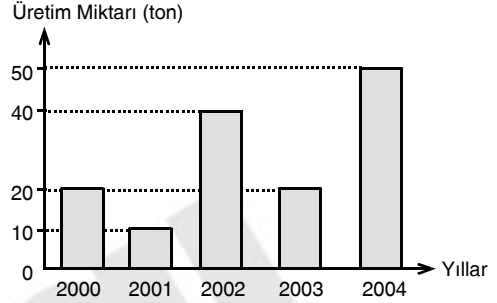


ABC bir dik üçgen
 $[AB] \perp [BC]$
 $[AD]$, \widehat{BAC} açısının
 açıortayı
 $IABI = 6 \text{ cm}$
 $IBCI = 8 \text{ cm}$

Yukarıdaki verilere göre, $A(\triangle ADC)$ kaç cm^2 dir?

- A) 27 B) 22 C) 18 D) 16 E) 15

58. – 60. soruları aşağıdaki bilgilere göre cevaplayınız.



Yukarıdaki grafik bir şirketin 2000-2004 yılları arasındaki üretim miktarlarını ton olarak göstermektedir.

58. Bu şirketin 2003 yılı üretim miktarı, 2004 yılı üretim miktarından yüzde kaç daha azdır?

- A) 45 B) 50 C) 60 D) 70 E) 75

59. Bu şirketin 2002 yılı üretim miktarı, 2004 yılı üretim miktarının yüzde kaçıdır?

- A) 40 B) 55 C) 65 D) 80 E) 85

60. Yukarıdaki grafik bir daire grafiği ile gösterildiğinde 2000 ve 2004 yıllarına ait dilimlerin merkez açıları toplamı kaç derece olur?

- A) 60 B) 90 C) 120 D) 145 E) 180



KPSS

GENEL KÜLTÜR TESTİ

DENEME SINAVI-2

BU TESTTE TOPLAM
60 SORU BULUNMAKTADIR

Başarılar dileriz...

1. İlk Türk devletlerinde hükümdarın temel görevi "Töre" denilen yasaları eksiksiz uygulamaktır. **Bu durumun aşağıdakilerden hangisine kanıt olduğu savunulabilir?**
- A) Yasaların yazıya geçirildiğine
B) Yasaya bağlı devlet anlayışının olduğuna
C) Bazı yasalara uyma zorunluluğunun olmadığına
D) Yasalar arasında hiyerarşik bir düzen bulunduğuna
E) Yasaların hükümdarı bağlamadığına
2. Müslüman Türk Devletlerinde hukuk, toprak yönetimi, eğitim, askerlik konularının ilk Türk devletlerinden farklı ele alındığına kanıt olarak aşağıdakilerden hangisi gösterilemez?
- A) Şeri Hukuku uygulamaları
B) Egemenlik anlayışını sürdürmeleri
C) Toprakları kategorilere ayırmaları
D) Medreseler açmaları
E) Hassa ordusuna sahip olmaları
3. Anadolu Selçuklu Devleti halkın sosyal, kültürel, ekonomik ihtiyaçlarını karşılamaya önem vermiştir. **Aşağıdakilerden hangisinin yukarıdaki yargıyı desteklediği söylenemez?**
- A) Ticari malların sigortalanması
B) İmarethanelerin açılması
C) Saray ve köşkerin yapılması
D) Medreselerin açılması
E) Vakıfların devlet tarafından desteklenmesi
4. Avrupa'da meydana gelen Coğrafi Keşifler, sömürgecilik hareketleri ve Sanayi İnkılabı Osmanlı Devleti'ni olumsuz şekilde etkilemiştir. **Bu durumun Osmanlı Devleti'nde aşağıdakilerden hangisine neden olduğu savunulamaz?**
- A) Gümrüklerden alınan vergilerin azalmasına
B) Osmanlı limanlarının öneminin azalmasına
C) Osmanlı parasının değerinin düşmesine
D) Loncaların ekonomideki etkinliklerinin azalmasına
E) Atölye düzeninden fabrika düzenine geçilmesine
5. **Osmanlı Devleti'nde;**
- I. Şeyhülislam'ın devlet örgütü içine alınması
II. Teba'nın siyasi, sosyal ve kültürel alanda etkili olması
III. Divan-ı Hümayun'un idari, askeri ve mali işlere bakması
- bu durumlardan hangileri devletin teokratikleşmeyi pekiştirdiğini gösterir?**
- A) Yalnız I
B) Yalnız II
C) Yalnız III
D) I ve II
E) I, II ve III
6. **Osmanlı Devleti'nin genişlemesi ile,**
- I. Vezir
II. Nişancı
III. Defterdar
- Yukarıdaki Divan-ı Hümayun'un üyelerinden hangilerinin sayısında artış olmuştur?**
- A) Yalnız I
B) Yalnız II
C) Yalnız III
D) I ve III
E) I, II ve III

7. 1839'da ilan edilen Tanzimat Fermanı'nda aşağıdakilerden hangisine yer verilmemiştir?

- A) Gayrimüslimler için bedelli askerlik uygulamasının getirilmesine
- B) Vergilerin adaletli toplanmasına
- C) Bütün halkın can ve mal güvenliğinin sağlanmasına
- D) Mahkemelerin herkese açık olmasına
- E) Fermana padişah ve tüm devlet adamlarının uyaçağına

8. Aşağıdakilerden hangisi XVIII. yüzyılda Osmanlı Devleti'nde yapılan Islahat hareketlerinin özelliklerinden biri değildir?

- A) Avrupalı uzmanlardan yararlanılması
- B) Müslüman olmayanları devlet içinde tutma amaçlı olması
- C) Eğitim alanında geleneksel anlayışın değişmeye başlaması
- D) Avrupa tekniğinden yararlanılmış olması
- E) Askerlik ve eğitim alanında yapılması

9. Azınlıklara yeni haklar getiren Islahat Fermanı Osmanlı ve Fransız diplomatlar tarafından hazırlanmış olup; Paris Barış Antlaşması'na eklenmiştir. **Buna göre, aşağıdaki yargılardan hangisine varılamaz?**

- A) Osmanlı iç işlerine karışıldığının
- B) Bağımsız bir dış politikanın yürütülmediğinin
- C) Osmanlı azınlıklarının temel haklardan yoksun olduklarının
- D) Azınlıkların Avrupalı devletler tarafından kullanıldığının
- E) Azınlık sorunlarının uluslararası bir platforma taşındığının

10. I. Birinci Balkan Savaşı
II. İkinci Balkan Savaşı
III. Birinci Dünya Savaşı

Osmanlı Devleti yukarıdakilerden hangileriyle kaybedilen toprakları geri almaya çalışmıştır?

- A) Yalnız I
- B) Yalnız II
- C) Yalnız III
- D) I ve II
- E) II ve III

11. Mondros Ateşkes Antlaşmasının neden olduğu ortamdan yararlanan azınlıklar çeşitli cemiyetler kurup Anadolu işgalini desteklemişlerdir.

Bu durumun sonuçları arasında aşağıdakilerden hangisinin meydana geldiği söylenemez?

- A) Türk Rum nüfusunun mübadele edilmesi
- B) Doğu Cephesinin açılması
- C) Erzurum Kongresi'nde azınlıklara ayrıcalıkların verilmesine karşı çıkılması
- D) Milli Cemiyetlerin kurulması
- E) Bir kısım Ermeni azınlığın **tehcir** edilmesi

12. Aşağıdakilerden hangisi Erzurum Kongresi kararları içinde yer almamıştır?

- A) Temsil Kurulunun yetki alanının genişletilmesi
- B) Azınlıklara sosyal ve siyasal dengeyi bozacak ayrıcalıkların tanınmaması
- C) Siyasal bağımsızlığa saygılı devletlerin yardımının kabul edilebileceği
- D) Meclis-i Mebusan'ın toplanması
- E) Kuva-i Milliye'nin desteklenmesi

13. Sivas Kongresini Erzurum kongresinden ayıran özellikler;

- I. Mustafa Kemal'in başkanlığında toplanması
- II. Temsilciler Heyetinin seçilmesi
- III. Anadolu ve Rumeli Müdafai Hukuk Cemiyeti'nin kurulması

yukarıdakilerden hangileridir?

- A) Yalnız I
- B) Yalnız II
- C) Yalnız III
- D) I ve II
- E) II ve III

14. Temsil Kurulu'nun Ankara'yı merkez seçmesinde,

- I. Batı Cephesine yakın olması
 - II. Coğrafi ve stratejik bakımdan güvenli yer olması
 - III. TBMM'nin burayı merkez kabul etmesi
- durumlarından hangilerinin etkili olduğu savunulabilir?

- A) Yalnız I
- B) Yalnız II
- C) Yalnız III
- D) I ve II
- E) I ve III

15. I. TBMM bağımsızlık sağlanıncaya kadar seçime gitmeme kararı almıştır.

Bu kararın alınmasının amacı olarak aşağıdakilerden hangisi savunulabilir?

- A) Meclis diktatörlüğü kurmak
- B) Partileşmeye engel olmak
- C) Memleketin kurtuluşuna öncelik vermek
- D) Meclis otoritesini sağlamak
- E) Milletvekili sayısını değişmez hale getirmek.

16. Milli Mücadele karşıtlarının çıkardıkları ayaklanmaların sayısında Nisan 1920'den sonra artış olmuştur.

Bu durum nedeni olarak;

- I. İstanbul Hükümetinin Anadolu'da etkin olmak istemesi
- II. Yunanistan'ın Batı Anadolu'da ilerlemesi
- III. TBMM'nin açılması ve faaliyetlerine başlaması

yukarıdakilerden hangileri söylenebilir?

- A) Yalnız I
- B) Yalnız II
- C) Yalnız III
- D) I ve II
- E) I ve III

17. Aşağıdakilerden hangisi I. İnönü Savaşı'ndan sonra TBMM ile Sovyet Rusya arasında yapılan Moskova Antlaşmasının kapsamı içinde yer almamıştır?

- A) Boğazlar için bir konferansın toplanması
- B) Çarlık Rusya'sı ile Osmanlı Devleti'nin yaptıkları antlaşmaların geçerli sayılmaması
- C) Rusya'nın TBMM'ye askeri ve mali yardım yapması
- D) Kars ve Ardahan'ın Ermenilere verilmesi
- E) Rusya'nın kapitülasyon haklarından vazgeçmesi

18. Aşağıdakilerden hangisi Lozan Antlaşması'nda yer alan konulardan biri değildir?

- A) Yunanistan ve Bulgaristan ile olan sınırımızın çizilmesi
- B) Ege adalarının statüsünün belirlenmesi
- C) Kafkas sınırının çizilmesi
- D) Türk-Rum nüfusunun mübadeleye tabi tutulması
- E) Kapitülasyonların kaldırılması

19. I. Planlı kalkınma politikasının sürdürülmesi
II. Anti-enflasyonist para kredi politikası
III. İktisadi teşekküllerin özendirilmesine öncelik verilmesi
Yukarıdaki yargılardan hangileri Atatürk tarafından uygulamaya konulan temel iktisat politikaları arasında sayılabilir?

A) Yalnız I
B) Yalnız II
C) Yalnız III
D) I ve II
E) I, II ve III

20. I. Terakki Perver Fırkası'nın kapatılması
II. İş Bankası'nın kurulması
III. Halk Fırkası'nın Cumhuriyet Halk Partisi adını alması
Yukarıdakilerden hangileri Atatürk döneminde gerçekleştirilmiştir?

A) Yalnız I
B) Yalnız II
C) Yalnız III
D) I ve II
E) I, II ve III

21. **Türk Tarih Kurumu'nun;**
I. Yayınlarla ortak kültür bilinci vermek
II. Türklerin eski tarihini araştırmak
III. Kültürel araştırmaları yayınlamak
amaçlarından hangilerinin ulusal birliğin sağlanmasında etkili olduğu savunulabilir?

A) Yalnız I
B) Yalnız II
C) Yalnız III
D) I ve II
E) I, II ve III

22. **Cumhuriyetin ilk yıllarında**
I. Hukuk
II. Eğitim
III. Ekonomi
yukarıdaki alanların hangilerinde birlik sağlanmaya çalışılmıştır?

A) Yalnız I
B) Yalnız II
C) Yalnız III
D) I ve II
E) II ve III

23. Bir toplum, bir millet, kadın ve erkek denilen iki cins insandan meydana gelir. Kabil midirki, bir kütlenin bir parçasını ilerletelim diğerini bırakalımda kütlenin hepsi yükselme seviyesine erişebilirsin...

Atatürk'ün bu görüşü doğrultusunda

- I. Medeni Yasanın çıkarılması
II. Saltanatın kaldırılması
III. 1930-1934 yılları arasındaki seçme seçilme yasalarının çıkarılması

hangilerinin yapıldığı savunulabilir?

A) Yalnız I
B) Yalnız II
C) Yalnız III
D) I ve III
E) II ve III

24. **Serbest Parti'nin programında;**
I. Seçimlerin tek dereceli olması
II. Milliyetçi ve Cumhuriyetçi esaslara bağlı kalınması
III. Partinin dini inançlara saygılı olması
Yukarıdakilerden hangileri yer almıştır?

A) Yalnız I
B) Yalnız II
C) Yalnız III
D) I ve II
E) I, II ve III

25. Türkiye 1934 ve 1937 yıllarında siyasi konularda;

- I. Yunanistan
- II. Bulgaristan
- III. İran

yukarıdaki devletlerden hangileriyle işbirliği ve dayanışma içine girmiştir?

- A) Yalnız I
- B) Yalnız II
- C) I ve III
- D) II ve III
- E) I, II ve III

26. Musul'un elden çıkması sürecinde,

- I. Mondros Ateşkes Antlaşması
- II. Ankara Antlaşması
- III. Sadabat Paktı

yukarıdakilerden hangileri etkili olmuştur?

- A) Yalnız I
- B) Yalnız II
- C) Yalnız III
- D) I ve II
- E) II ve III

27. I. Beş Yıllık Sanayi planının yürütmesi için elverişli bir ortam yaratmak üzere;

- I. Korumacı gümrük politikasının yürütülmesi
- II. Hammaddesi yurt içinde bulunan malların üretimine öncelik verilmesi
- III. Bütçeden ayrılan belli tutarların sanayileşmeye tahsis edilmesi

yukarıdakilerden hangileri yapılmıştır?

- A) Yalnız I
- B) Yalnız II
- C) Yalnız III
- D) I ve II
- E) I, II ve III

28. Milliyetçilik ilkesi;

- I. Denizlerde işletme hakkının Türklere verilmesi
- II. Demiryollarının yabancılardan alınması
- III. Aşar vergisinin kaldırılması

yukarıdaki gelişmelerden hangileriyle doğrudan ilgilirdir?

- A) Yalnız I
- B) Yalnız II
- C) I ve II
- D) I ve III
- E) I, II ve III

29. • Ümmet toplumundan ulus toplumuna geçilmesi
• Dini kuralların devlet düzenine hakim olmasının engellenmesi

yukarıdaki gelişmeler aşağıdaki ilkelerden hangisinin kapsamı içerisinde sayılabilir?

- A) Laiklik
- B) Devletçilik
- C) Milliyetçilik
- D) Cumhuriyetçilik
- E) Halkçılık

30. I. Terakki Perver Cumhuriyet Fırkası'nın kurulması
II. Şeyh Said İsyanı'nın çıkması
III. Takrir-i Sükun Yasası'nın çıkarılması

Gelişmelerinin kronolojik sırası aşağıdakilerden hangisinde verilmiştir?

- A) I - II - III
- B) II - I - III
- C) III - II - I
- D) I - III - II
- E) III - I - II

31. I. Maden çeşidi
II. En uzun gündüz tarihi
III. İklim kuşağı
IV. Yer şekilleri
Yukarıdakilerden hangileri Türkiye'nin matematik konumu hakkında bilgi vermez?

- A) Yalnız I
B) I ve IV
C) II ve III
D) II ve IV
E) Yalnız IV

32. Aşağıdakilerden hangisi Türkiye'de genç dağ kuşaklarının yaygın olmasından kaynaklanan bir özelliktir?

- A) Sık ve şiddetli depremlerin görülmesi
B) Geniş alanda karasal iklimin görülmesi
C) Maden çeşidinin fazla olması
D) Nüfus dağılışının düzensiz olması
E) Ulaşımın doğu-batı yönünde gelişmesi

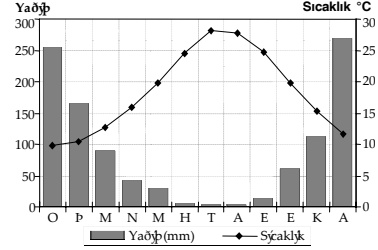
33. Aşağıda verilen göl ve oluşum özelliği eşleştirmelerinden hangisi yanlıştır?

- A) Büyük Çekmece - Dalga biriktirmesi
B) Manyas - Karstik erimesi
C) Köyceğiz - Akarsu biriktirmesi
D) Tuz Gölü - Tektonizma
E) Tortum - Heyelan

34. Aşağıdakilerden hangisi Türkiye'de kuraklığın arttığı yıllarda ortaya çıkan sonuçlardan biri değildir?

- A) Tarımsal verim azalır
B) Hayvansal verim azalır
C) Tarımda sulama ihtiyacı artar
D) Tarım ürünleri ihracatı artar
E) Orman yangınları artar

35. Aşağıdaki grafik bir yörede ortalama sıcaklık ve yağışın aylara göre dağılışını göstermektedir.



- Grafikteki bilgilere göre, bu yörenin bitki örtüsü ile ilgili olarak aşağıdakilerden hangisi doğrudur?

- A) Her mevsim bol yağış ister.
B) Yazın kuruyan kısa ot topluluklarıdır.
C) Deniz seviyesinden itibaren geniş, karışık ve iğne yapraklı şeklinde kuşaklar oluşturur.
D) Yaz kuraklığına dayanıklı kış ılıklığı isteyen ağaçlardır.
E) Yaz yağışlarının etkisiyle uzayan ot topluluklarıdır.

36. I. Akdeniz Bölgesi'ndeki deniz turizminin Karadeniz Bölgesi'ne göre daha erken başlaması
II. Doğu Anadolu Bölgesi'nde karın yerde kalma süresinin uzun olması
III. İzmir'de tarım ürünlerinin Muş'tan daha erken olgunlaşması

- Yukarıdaki yargılardan hangileri sıcaklığın yükseltiye bağlı olarak değişmesiyle açıklanamaz?

- A) Yalnız I
B) Yalnız II
C) Yalnız III
D) I ve II
E) II ve III

37. Orta Karadeniz Bölümü'ndeki kırsal yerleşmelerin Doğu Karadeniz Bölümü'ne göre daha toplu olmasının nedeni aşağıdakilerden hangisidir?

- A) Engebenin daha az olması
- B) Yüzölçümünün küçük olması
- C) Sanayisinin gelişmiş olması
- D) Yağış miktarının fazla olması
- E) Tarımsal verimin yüksek olması

38. Türkiye'de kırsal kesimden kentlere yaşanan göçün artması, aşağıdakilerden hangisinin üzerinde etkili olduğu söylenemez?

- A) Kentlerde eğitim ve sağlık hizmetlerinin yetersiz kalması
- B) Plansız kentleşmenin artması
- C) Kişi başına düşen milli gelirin azalması
- D) Çevre sorunlarının artması
- E) Sosyal sorunların artması

39.



Yukarıdaki haritada işaretlenmiş yerlerde yapılan hayvancılık faaliyetleri aşağıdakilerden hangisinde doğru olarak verilmiştir?

- | | | | |
|---|---|---|---|
|  |  |  |  |
| A) Küçükbaş | Büyükbaş | Kümes | Küçükbaş |
| B) Arıcılık | Büyükbaş | Küçükbaş | İpek Böc. |
| C) Büyükbaş | İpek Böc. | Küçükbaş | Arıcılık |
| D) Küçükbaş | Arıcılık | Kümes | Büyükbaş |
| E) Büyükbaş | Arıcılık | İpek Böc. | Küçükbaş |

40. Türkiye'de tarım alanlarında sulamanın yaygınlaştırılması;

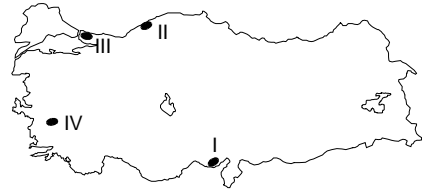
- I. Tarım ürünlerinin çeşitlenmesi
 - II. Nüfusun ülke içinde dengeli dağılması
 - III. İklim bağımlılığının azalması
- sonuçlarından hangilerine neden olmaz?

- A) Yalnız I
- B) I ve II
- C) I ve III
- D) Yalnız II
- E) II ve III

41. Ege Bölgesi'nde yer alan aşağıdaki sanayi kuruluşlarından hangisinin hammaddesi bölge dışından karşılanmaktadır?

- A) Aliğa'daki petrol rafinerisi
- B) Denizli'deki dokuma fabrikaları
- C) Torbalı'daki sigara fabrikaları
- D) Aydın'daki yağ fabrikaları
- E) İzmir'deki konserve fabrikaları

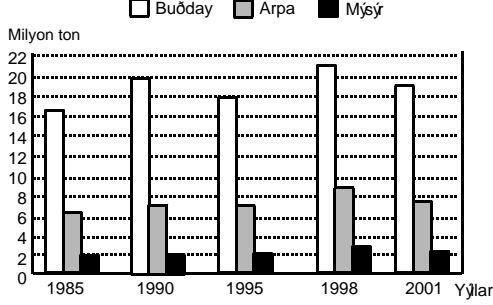
42.



Buna göre, haritadaki numaralı sanayi merkezlerinden hangilerinde daha çok tarıma dayalı sanayinin geliştiği söylenebilir?

- A) Yalnız I
- B) I ve III
- C) I ve IV
- D) II ve III
- E) Yalnız IV

43. Aşağıdaki grafikte, Türkiye'de üretilen buğday, arpa ve mısırın bazı yıllardaki üretim miktarları verilmiştir.



Buna göre, grafikteki bilgilerden yararlanarak aşağıdaki yargılardan hangisine ulaşılabilir?

- A) 1998 yılındaki buğday verimi önceki yıllara göre daha fazladır.
 B) Mısır ekim alanı sürekli artmıştır.
 C) Verilen yıllarda arpa ekim alanı mısır ekim alanından fazladır.
 D) Buğday üretiminde yıllar arasında dalgalanmalar yaşanmıştır.
 E) 1995 yılında buğdaydan elde edilen gelir mısır ve arpanın toplamından fazladır.
44. Sinop ve Antalya limanları İzmir, İstanbul ve İskenderun limanlarına göre daha az gelişmiştir. Buna göre, limanların gelişmesinde aşağıdakilerden hangisi daha çok etkili olmuştur?

- A) Tarımsal üretim çeşitliliği
 B) Bölgelerindeki iklim özellikleri
 C) Nüfus yoğunlukları
 D) Ulaşım imkanları
 E) Doğal liman olmaları

- 45.



Haritada numaralarla gösterilen elektrik santrallerinden hangisi hammaddenin bulunduğu alanda kurulmak zorundadır?

- A) I B) II C) III D) IV E) V

46. Aşağıdakilerden hangisi Doğu Karadeniz Bölümü'ne ait bir özellik değildir?

- A) Tarımda sulamanın gerekli olması
 B) Dağınık kır yerleşmelerin yaygın olması
 C) Halkın önemli bir kısmının balıkçılıkla uğraşması
 D) Tarımda makineleşmenin az olması
 E) Güneşli gün sayısının az olması

47. Akdeniz Bölgesi'nde tarım ürünü çeşidinin fazla olmasında etkili olan temel faktör aşağıdakilerden hangisidir?

- A) Engebeli alanların az olması
 B) İklim koşullarının elverişli olması
 C) Ekili – dikili alanın geniş olması
 D) Makine kullanımının fazla olması
 E) Toprakların verimli olması

48. Aşağıda eşleştirilen bölümlerden hangilerinde madencilikğin ekonomideki yeri daha fazladır?

- A) Orta Karadeniz – Güney Marmara
 B) Antalya – Ergene
 C) Orta Fırat – Yıldız Dağları
 D) Adana – Erzurum-Kars
 E) Yukarı Fırat – Batı Karadeniz

49. Para borcunu yerine getirmeyen kişiye uygulanan ve amacı, kişiyi borcunu yerine getirmeye devlet eliyle zorlanması olan yaptırım türü aşağıdakilerden hangisidir?

- A) Ceza
- B) Cebri icra
- C) Tazminat
- D) Hükümsüzlük
- E) İptal

50. Aşağıdakilerden hangisi Hakimler ve Savcılar Yüksek Kurulu ile ilgili yanlış bir bilgidir?

- A) Başkanı Adalet Bakanıdır.
- B) Adalet Bakanının önerilerini karara bağlar.
- C) Hakimlerin özlük işlerini kesin karara bağlar.
- D) Üyeleri Danıştay ve Yargıtay üyeleri arasından Cumhurbaşkanınca seçilir.
- E) Kararlarına karşı Anayasa Mahkemesine itiraz edilebilir.

51. Herkesin mali gücüne göre vergi vermesini açıklayan kavram aşağıdakilerden hangisidir?

- A) Vergide Genellik
- B) Vergide Eşitlik
- C) Vergide Adalet
- D) Vergide Süreklilik
- E) Vergide Kanunilik

52. 1982 Anayasası'na göre bir siyasi partinin, mecliste siyasi parti oluşturmak için en az kaç milletvekiline sahip olması gerekir?

- A) 10
- B) 15
- C) 20
- D) 25
- E) 40

53. Türk Silahlı Kuvvetlerinin yabancı ülkelere gönderilmesine ve yabancı silahlı kuvvetlerin Türkiye'de konuşlandırılmasına izin verme yetkisi aşağıdaki kurumlardan hangisine aittir?

- A) Bakanlar Kurulu
- B) Başbakan
- C) TBMM
- D) Anayasa Mahkemesi
- E) Genel Kurmay Başkanı

54. Aşağıdaki kuruluşlardan hangisinin kamu tüzel kişiliği Anayasada düzenlenmemiştir?

- A) Yükseköğretim Kurulu
- B) Köy
- C) Belediye İdaresi
- D) Atatürk Kültür, Dil ve Tarih Yüksek Kurumu
- E) Üniversiteler

55. Aşağıdakilerden hangisi Belediye Başkanlığından düşme nedenlerinden biri değildir?

- A) Belediye Başkanı hakkında verilen gensoru önergesine meclis üye tam sayısının %4 çoğunluğuyla yeterli yanıt verilememesi
- B) Milletvekili olmak için adaylığını koyması
- C) Seçilme yeterliliğini kaybetmesi
- D) Başbakanın kesintisiz ve mazeretsiz 20 günden fazla görev yerini terk etmesi
- E) Belediye meclis toplantılarına iki kez üst üste katılmaması

56. 1982 Anayasası'na göre, Anayasa değişikliğine ilişkin kanunun tümü veya gerekli görülen maddelerini halkoyuna sunma yetkisi aşağıdakilerden hangisine aittir?

- A) TBMM
- B) Bakanlar Kurulu
- C) Başbakanlık
- D) Cumhurbaşkanı
- E) Anayasa Mahkemesi

57. Aşağıdakilerden hangisi 1982 Anayasası'nda yer alan Hukuk devlet ilkesi ile ilgili doğru bir bilgidir?

- A) İdarenin mali sorumluluğu
- B) Kamulaştırma
- C) Sosyal ve ekonomik hakların yer alması
- D) Resmi bir dinin olmaması
- E) Siyasi karar organlarının seçimle belirlenmesi

Sınav sorularının çözümlerine ve analizlerine www.tekider.com.tr elektronik adresinde T.C. Kimlik numaranızı girerek ulaşabilirsiniz.

58. 1982 Anayasası'na göre, aşağıdakilerden hangisinin milletvekili olması şarttır?

- A) Başbakan
- B) İçişleri Bakanı
- C) Devlet Bakanı
- D) Cumhurbaşkanı adayı
- E) Ekonomiden sorumlu Devlet Bakanı

59. Türkiye, Uluslararası Para Fonuna (IMF) hangi yılda üye olmuştur?

- A) 1944
- B) 1946
- C) 1947
- D) 1952
- E) 1973

60. Aşağıdakilerden hangisi 2008 yılı sonunda "Bilim tarihinin nobeli" olarak bilinen Koyre madalyasını almayı hak eden ilk Türktür?

- A) Ekmeleddin İhsanoğlu
- B) Yaşar Kemal
- C) Orhan Pamuk
- D) Ahmet Ertürk
- E) Rifat Hisarcıklıoğlu

KPSS TÜRKİYE
GENELİ DENEME SINAVI -2GENEL YETENEK
CEVAP
ANAHTARI

1	D	31	C
2	E	32	B
3	B	33	E
4	A	34	D
5	C	35	D
6	A	36	B
7	E	37	D
8	E	38	C
9	B	39	D
10	A	40	D
11	C	41	E
12	A	42	B
13	E	43	D
14	E	44	E
15	C	45	A
16	D	46	C
17	B	47	E
18	D	48	C
19	C	49	B
20	D	50	A
21	D	51	D
22	B	52	C
23	A	53	C
24	C	54	B
25	B	55	D
26	A	56	A
27	C	57	E
28	B	58	C
29	A	59	D
30	D	60	E

GENEL KÜLTÜR
CEVAP
ANAHTARI

1	B	31	B
2	B	32	A
3	C	33	B
4	E	34	D
5	A	35	D
6	D	36	A
7	A	37	A
8	B	38	C
9	C	39	E
10	E	40	D
11	E	41	A
12	A	42	C
13	C	43	D
14	D	44	D
15	C	45	C
16	E	46	A
17	D	47	B
18	C	48	E
19	E	49	B
20	E	50	E
21	E	51	C
22	D	52	C
23	D	53	C
24	D	54	A
25	C	55	E
26	D	56	D
27	E	57	A
28	C	58	A
29	A	59	C
30	A	60	A